

Fiche 5.4.1. – Les politiques budgétaires

Exercice 1 :

Vidéo sur le new deal + Doc. 1, p. 180 : Comment a évolué le rôle de la politique budgétaire depuis les années 1930 ?

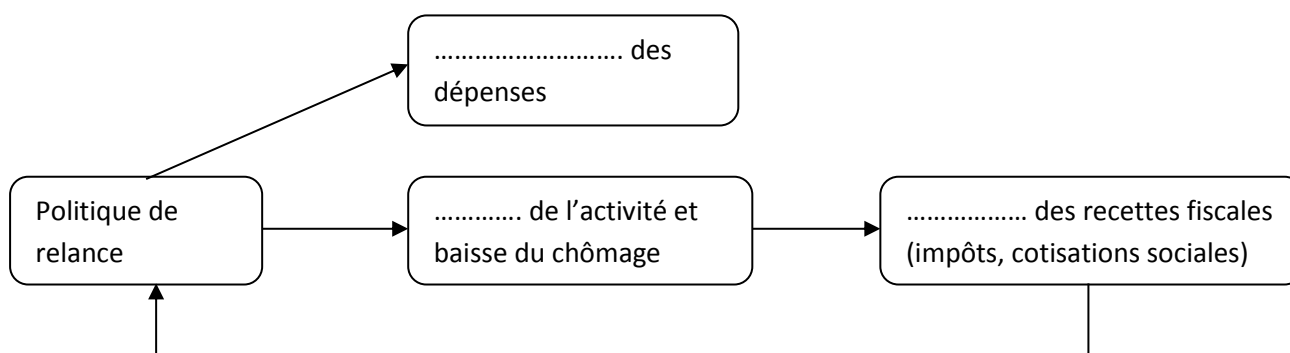
Questions :

1. Quelles sont les causes de la crise de 1929 ? Expliquez le rôle de la demande globale dans cette crise.
2. Quelles sont les conséquences pour la population de cette crise ?
3. Quelles sont les mesures prises par Roosevelt pour contrer cette crise ? Pourquoi ?

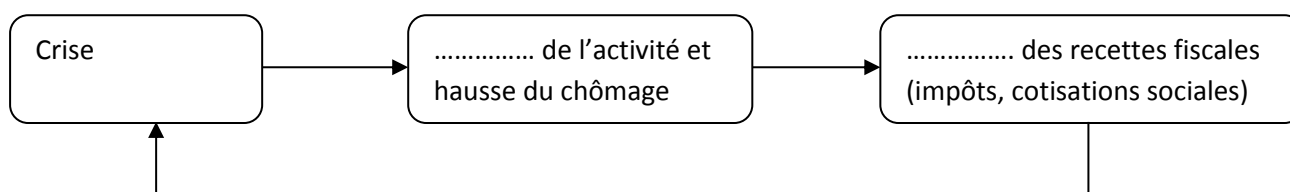
Exercice 2 :

Doc. 2, p. 181 : Faîtes un schéma montrant l'effet d'une reprise de l'activité économique sur le budget de l'Etat. Faîtes un schéma montrant l'effet d'une crise économique sur le budget de l'Etat.

Effet de la relance sur le budget de l'Etat :



Effet de la crise sur le budget de l'Etat :



Exercice 3 :

Doc. 3, p. 181 : Qu'est-ce qu'une politique volontariste ? Quels sont ses objectifs ? Rechercher sur Internet ce qu'est l'effet multiplicateur.

Exercice 4 :

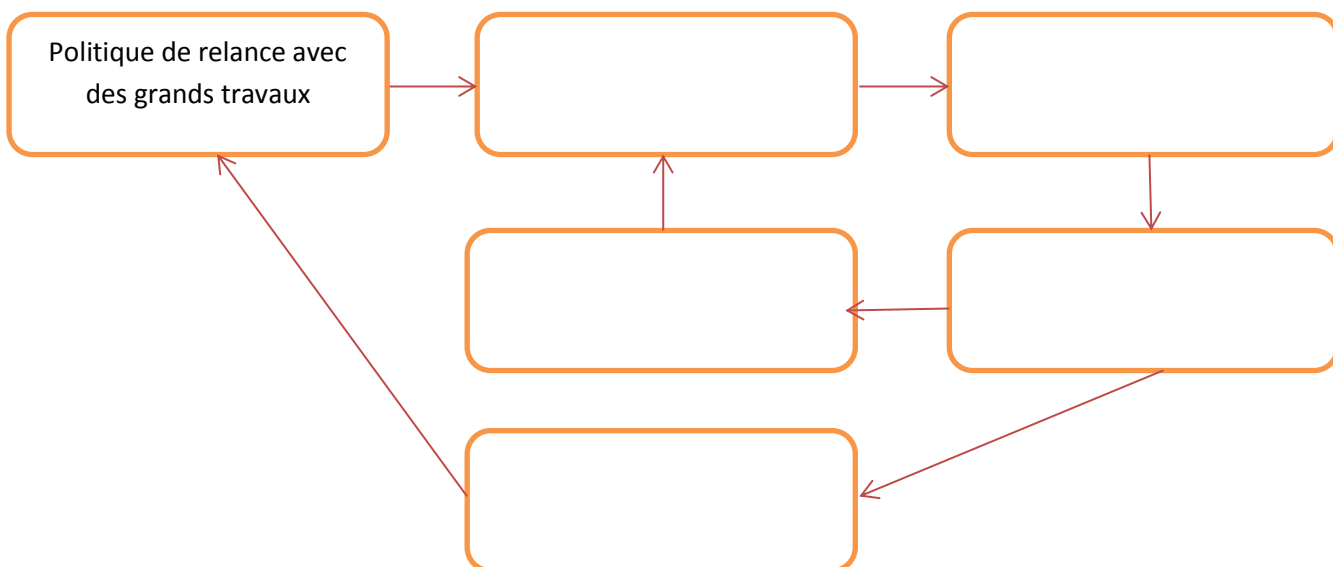
Doc. 4, 6, 7 : Quels instruments sont utilisés pour relancer l'activité économique ?

Découvrir p. 146 : Pour Keynes, quel est le rôle de l'Etat dans l'économie ? Quelles solutions préconise-t-il pour réduire le chômage ?

Exercice 5 :

Pour le cas particulier de l'investissement public, on peut construire un schéma montrant le rôle d'une politique de grands travaux.

Remplissez le schéma suivant avec les termes suivants : hausse de la consommation, hausse de l'investissement, hausse des revenus, hausse des recettes fiscales, hausse de la production.



Exercice 6 :

Doc. 9, 10, 11, p. 184 + Doc. 12, p. 185 + Doc. 13, p. 185 : Quelles sont les contraintes et les limites qui freinent les politiques de relance ?

Résumez ces contraintes dans un schéma :

