

Fiche 3.2.1. – Le fonctionnement du marché

Obélix et compagnie ou le développement du marché du menhir

Pour faire face au comportement de quelques irréductibles gaulois, Jules César envoie un émissaire, Caius Saugrenus pour jeter la discorde au sein de ce village. Celui-ci va alors chercher à développer l'esprit d'entreprise et l'économie de marché au sein du village...




1. Pourquoi peut-on dire à partir de ces quelques vignettes qu'il y a un marché du menhir ? Qui représente l'offre ? La demande ? Quel est le prix du marché à cet instant ?



TU ES DEVENU FOU, OU QUOI?!

MAIS NON... LE MENHIR N'A JAMAIS AUSSI BIEN MARCHÉ, ALORS, J'EN PROFITE. JE SUIS EN TRAIN DE DEVENIR L'HOMME LE PLUS IMPORTANT DU VILLAGE.



ET TU NE PRÉFÈRES PAS PLUTÔT CHASSER LE SANGLIER ET RIGOLER AVEC LES COPAINS COMME AVANT ?

MAIS OUI, QUAND J'AURAI VENDU DES TAS DE MENHIRS, JE POURRAI CHASSER LE SANGLIER COMME AVANT...



VIENS IDÉFIX! NOUS N'AVONS PLUS RIEN À DIRE À L'HOMME LE PLUS IMPORTANT DU VILLAGE!

TRAVAILLE AVEC MOI, ASTÉRIX, ET DANS QUELQUES ANNÉES, NOUS...
OUAÏLE!



IDÉFIX M'A MORDU!



QU'EST-CE QUE C'EST QUE ÇA ?

DRÔLE DE QUESTION VENANT DE TOI. C'EST UN MENHIR.



TU PORTES DES MENHIRS, TOI ?

POURQUOI PAS ? CE N'EST PAS PLUS LOURD QU'UN HARENG.



ÇA ALORS !...




OÙ EST CÉTAUTOMATIX?

IL EST ALLÉ LIVRER SES MENHIRS.



LIVRER SES... ? MAIS C'EST MOI QUI...


ÉCARTEZ-VOUS!



AGECANONIX MENHIRS FINS



!?!

2. Face à cette hausse de la demande de menhir, comment réagissent les producteurs ? Pourquoi ? Quelles peuvent être les conséquences de l'augmentation de la production de menhir sur leur prix ?





3. Sur quel type de besoins repose la stratégie marketing de Caius Saugrenus ?



4. Quelle est la conséquence de la campagne de publicité ?



5. Quelle est la réaction des artisans sur le marché ?



6. Quelle est la conséquence sur les prix de cette hausse rapide de l'offre antique de menhir ?

Voici la situation du marché du menhir en 50 avant Jésus Christ :

Les quantités demandées et offertes évoluent de cette manière en fonction du prix

Prix	Quantité produite par les entreprises de menhirs	Quantité demandée par les consommateurs
100	140	350
150	150	290
200	170	240
250	200	200
300	230	170
350	250	150

7. Tracez sur le repère ci-dessous les courbes de demande et d'offre de menhirs avec les prix en ordonnées et les quantités (offertes et demandées) en abscisses.

Prix des menhirs



8. Suite à un tremblement de terre les carrières de pierre à menhirs sont détruites et il faudra du temps pour à nouveau extraire de grosses quantités de pierre. Comment cela va jouer sur le prix des menhirs ?

9. Une innovation technologique vient bousculer le marché du menhir : l'apparition du dolmen. Comment cela va jouer sur le prix des menhirs ?

10. De nouveaux instruments ont été inventés permettant de produire des menhirs deux fois plus vite. Comment cela va jouer sur le prix des menhirs ?

11. L'Hispanie devient un nouveau marché en pleine expansion. Comment cela va jouer sur la demande ? Comment cela va jouer sur le prix des menhirs ?